

ОСНОВЫ БЕЗОПАСНОСТИ ЖИЗНЕДЕЯТЕЛЬНОСТИ
7-8 КЛАССШИФР УЧАСТНИКА 7-20

Материалы для обучающихся

ТЕОРЕТИЧЕСКИЙ ТУР

Время выполнения заданий – 45 минутМаксимальное количество баллов – 100

Задания открытого типа.

Максимальное количество баллов – 55

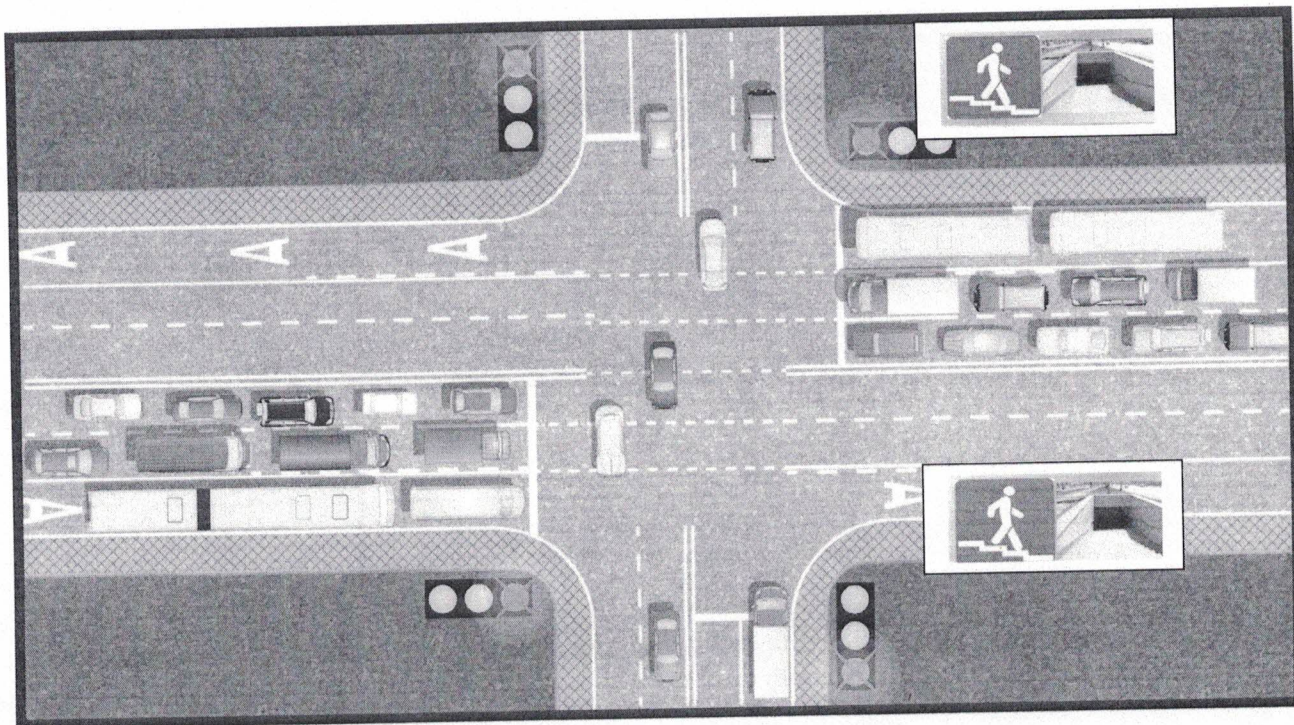
Дайте *полные* или *краткие ответы* на задания, *вписав их* в соответствии с требованием к их выполнению.

Задание 1. Безопасность дорожного движения. Перед вами участок дороги с регулируемым перекрёстком. Укажите не менее 5 участков, где можно передвигаться на велосипеде (подразумевается, что вам исполнилось 14 лет). Места, где можно ездить велосипедисту, указываются на самом рисунке стрелочками с возможным направлением движения. Участок, на котором нужно слезть с велосипеда, указывается пунктирной линией.

***Для чёрно-белой печати:* в левом верхнем углу – зелёный сигнал светофора; в правом верхнем – красный, в левом нижнем – красный, в правом нижнем – зелёный.

Максимальное количество баллов – 15, по 3 балла за каждый правильный ответ.

Штрафы: 1 балл, если участок отмечен правильно, но не указано направление движения стрелочкой, 2 балла – если участник указал направление движения неправильно, или неправильно указан способ перемещения (например, где надо спешиваться, указал сплошной, а не пунктирной линией, или наоборот), 3 балла – отмечен участок дороги, по которому двигаться нельзя. Если штрафов больше, чем правильных ответов, то за задание выставляется 0 баллов.



Оценка за задание _____ баллов

Задание 2. Оказание первой помощи. Стрелочками отметьте соответствие между средствами оказания первой помощи и их назначением (может быть 2 и более назначений).

Сухой лёд	→	Остановка кровотечения
Жгут	←	Обработка раны
Стерильные салфетки	←	Иммобилизация
Бинт нестерильный	→	Обезболивание, уменьшение отёка
Перекись водорода	←	Наложение давящей повязки
Бинт эластичный	→	

Максимальное количество баллов - 10.

Оценка за задание 10/5 баллов.

ОСНОВЫ БЕЗОПАСНОСТИ ЖИЗНЕДЕЯТЕЛЬНОСТИ
7-8 КЛАСС

Задание 3. Оказание самопомощи. Рассмотрите ситуацию.

Вы ехали в автобусе без сопровождения взрослых. Неожиданно автобус сделал резкий манёвр, а потом затормозил, раздался удар, так как случилось дорожно-транспортное происшествие. В результате ДТП вы получили травмы:

1. Вы почувствовали сильную боль в переносице и обнаружили кровотечение из обеих ноздрей.
2. Увидели порванный рукав на правом предплечье и тёмную кровь, почувствовали режущую боль в этом месте, но инородных тел в ране нет.

Опишите ваши действия, вписав краткие или полные ответы на предложенные вопросы.

- Надо ли выходить из автобуса? Ответ обоснуйте

1. Заторман бы голову вперёд на несколько минут и положили бы на переносицу ладонный комок, 2: сильно затрясти бы рану жмуром

- Если вы решили эвакуироваться из транспортного средства, то оказывать себе помощь вы начнёте ДО или ПОСЛЕ выхода? (нужное подчеркнуть).

- Можно ли в таком случае оказать себе помощь без каких-либо подручных средств? ДА/НЕТ (нужное подчеркнуть).

- Какой вид кровотечения описан под номером 1 из перечня травм, полученных в результате ДТП? _____

Каким образом вы будете оказывать себе помощь? Автомобиль Да

Кровь из носа заторман бы голову вперёд и положили на переносицу ладонный комок, а кровотечение из правого предплечья автомобиль бы жмуром

- Какой вид кровотечения описан под номером 2 из перечня травм, полученных в результате ДТП? _____

ОСНОВЫ БЕЗОПАСНОСТИ ЖИЗНЕДЕЯТЕЛЬНОСТИ
7-8 КЛАСС

Каким образом вы будете оказывать себе помощь?

- Какие ещё следует выполнить действия, если кровотечение вы временно остановили?

*Обработать ее в ближайшую больницу
для наложения жгуты.*

Максимальное количество баллов – 15. По 3 балла за каждый полный ответ, по 1 баллу за каждый краткий ответ и по 0,5 балла за подчеркнутый ответ.

Оценка за задание 10 баллов

Задание 4. Безопасность в природных условиях.

Впишите в предложенные фразы недостающие слова и ответьте на вопросы.

1. Если водоём является местом выгула и водопоя скота, то в нём купаться категорически нельзя

2. Вы увидели вдалеке молнию. Как понять, приближается к вам гроза, или она обойдет место отдыха стороной? Гроза всегда идёт в

безопасное место чтобы не покривить ушки молнии
Гроза к вам приближается, а вы в это время находитесь на лодке (из пластика) вдали от берега. Вам необходимо слезть покинуть воду любым способом

и сделать упрямое или ухватиться в сторону от
грозы или это возможно

Вы не успеваете подплыть к берегу. Вам нужно в этом случае занять положение _____

3. Вы с семьёй отдыхаете на озере. Вы захотели испытать свои силы и попробовать переплыть озеро. Как это сделать безопасно? С помощью

воздушной кура или с человеком в лодке.
или же помочь вам, что бы вы не утонули

Максимальное количество баллов - 15. По 2,5 балла за каждый ответ в вопросах № 1 и 2 и 5 баллов за полный ответ вопроса № 3. За неполный или неточный ответ количество баллов снижается.

Оценка за задание 8 баллов

ТЕСТИРОВАНИЕ

Максимальное количество баллов – 45, по 3 балла за каждый правильный ответ.

Из предложенных вариантов ответов выберите один правильный.

Правильный вариант ответа выделите любым знаком.

1. При закаливании организма в *первую очередь*лучшается работа:

- А) сердца;
- Б) сосудов;
- В) костей и мышц;
- Г) головного мозга.

2. Какой из перечисленных факторов является *наиболее благоприятным* для дыхательной системы:

- А) чистый влажный воздух;
- Б) сон;
- В) комфортная температура воздуха;
- Г) нахождение в помещении.

3. Для того, чтобы возник эффект от занятий физическими упражнениями, необходимо тренироваться:

- А) 1 раз в неделю;
- Б) 2 раза в неделю;
- В) 3 раза в неделю;
- Г) не менее 4х раз в неделю;
- Д) недельный объём тренировок не имеет значения.

4. Гироскутер, согласно действующим правилам, является:

- А) транспортным средством;
- Б) игрушкой;
- В) средством индивидуальной мобильности;
- Г) ничего из перечисленного.

5. Вы передвигаетесь по улице на электросамокате, который развивает максимальную скорость 30 км/ч. Вы должны подчиняться правилам:

- А) пешехода;
- Б) водителя;
- В) пассажира;
- Г) отдельной категории участников дорожного движения.

6. Из школы до дома вы можете пройти по разным дорогам, но все они подразумевают переход дороги с интенсивным движением.

Наиболее безопасным маршрутом в этом случае будет:

- А) наиболее короткий путь;
- Б) путь через пешеходный переход с мигающим жёлтым светом на солнечных батареях;
- В) путь через переход с обычным трёхцветным светофором;
- Г) через подземный или надземный переход.

7. Вы идёте по улице мимо индивидуальных жилых домов. Вдруг со двора одного из домов, ворота, которого открыты, выбегает собака на середину

улицы, смотрит на вас и лает, но пока не подбегает к вам. Выберите наиболее правильный вариант действий:

- А) развернуться и пойти обратно;
- Б) не разворачиваясь, пойти спиной вперёд и постараться уйти из её поля зрения;
- В) залезть на ближайшее дерево или забор;
- Г) взять палку и с криками побежать к собаке.

8. Вы находитесь дома одни. Для того, чтобы пообедать, вы включили приборы: электрочайник, микроволновку и блендер, которые работали одновременно от одной переноски с тремя розетками. Внезапно тройник заискрился, раздались хлопки, запахло жжёной пластмассой. В первую очередь нужно:

- А) накрыть тройник плотной тканью;
- Б) выдернуть из тройника вилку провода от приборов;
- В) выдернуть из розетки саму переноску;
- Г) позвать соседей на помощь.

9. Наиболее подходящей обувью для летнего пешего похода в горах с низким уровнем сложности является:

- А) кроссовки с мягкой подошвой;
- Б) резиновые сапоги;
- В) специальная обувь с шипами на подошве;
- Г) тёплые ботинки;

Д) кроссовки или ботинки с твёрдой подошвой и высоким голенищем.

10. Вы долго купаетесь в озере, при этом Ваша голова без головного убора находится под лучами солнца. Неожиданно вы почувствовали сильную головную боль, головокружение и слабость. Выберите наиболее подходящий порядок действий до приезда врачей.

- А) выйти из воды, зайти в тень, положить на голову что-то холодное (так как это солнечный удар), сообщить взрослым, выпить побольше воды, лежать до осмотра медиков;
- Б) подойти ближе к берегу и, не выходя из воды, несколько раз окунуть голову в воду;
- В) выйти из воды, растереться сухим полотенцем, сделать несколько интенсивных упражнений на солнце (чтоб согреться после переохлаждения), сообщить взрослым;
- Г) выйти из воды, переодеться в сухую одежду, лечь на солнце, выпить тёплого чая и поесть горячую пищу.

11. В двухдневном пешем походе у вас закончилась питьевая вода, а на улице жарко, а до ближайшего населённого пункта – несколько часов ходьбы. На пути имеется пресный водоём, по внешним признакам чистый.

Выберите наиболее подходящий вариант действий:

- А) взять воду из водоёма, но перед употреблением её прокипятить на костре около 30 мин;
- Б) взять воду из водоёма, пропустить её через несколько слоёв марли, добавить кристаллик марганцовки, и тогда её можно пить;
- В) не брать воду из водоёма, дойти до населенного пункта, купить воду в магазине;
- Г) вырыть ямку недалеко от водоёма, чтоб в неё набиралась вода, которую можно будет пить.

12. Вы идёте по улице, как вдруг из-за угла дома кто-то вам кричит вслед оскорбления, и, судя по всему, там находятся несколько человек старше вас. Наиболее правильным вариантом ваших действий будет:

- А) повернуться в сторону кричащих, выкрикнуть оскорбление в ответ;

ОСНОВЫ БЕЗОПАСНОСТИ ЖИЗНЕДЕЯТЕЛЬНОСТИ
7-8 КЛАСС

- Б) не оборачиваться, по звуку определить примерно, откуда были крики, ускорить шаг и выйти из предполагаемого поля зрения кричащих;
- В) подойти к хулиганам, предварительно подготовив какое-нибудь средство защиты, и выяснить, что им нужно;
- Г) остановиться, позвонить родителям.

Выберите несколько вариантов ответов:

13. По каким участкам дороги может двигаться велосипедист с 14 лет?

- А) проезжая часть;
- Б) тротуар;
- В) пешеходная дорожка;
- Г) автомагистраль;
- Д) обочина.

14. Что из перечисленного является способом остановки кровотечения?

- А) наложение шины;
- Б) наложение стерильной повязки;
- В) прямое давление на рану;
- Г) наложение холода;
- Д) обработка раны антисептиком;
- Е) сильное сгибание конечности.

15. В каких случаях можно отравиться съедобным грибом?

- А) если он собран вдоль дорог или рельсов;
- Б) если его собирали в тканевые пакеты;
- В) если гриб сильно старый;
- Г) если его собирали поздней осенью;
- Д) если его после сбора не обрабатывали более 2 суток;

Материалы для обучающихся

ТЕОРЕТИЧЕСКИЙ ТУР

Максимальное количество баллов – 100. Время выполнения – 45 мин.

ЗАДАНИЯ ОТКРЫТОГО ТИПА

Максимальное количество баллов – 55.

Дайте *полные* или *краткие ответы* на задания, *вписав их* в соответствии с требованием к их выполнению.

1. Очень часто для перегонки какого-нибудь вещества из пункта «А» в пункт «Б» используют трубопровод. Опознавательная окраска внешней поверхности трубопровода, указывает на свойства транспортирующего вещества. Определите по цвету поверхности трубопровода, какие укрупненные группы веществ (*газы, пар, вода, кислоты, горючие жидкости, щелочь, кислород*) транспортируют по нему в каждом случае?

№	Цвет трубопровода	Вещество
1	Красный	<i>пар</i>
2	Оранжевый	<i>горючие жидкости</i>
3	Желтый	<i>газ</i>
4	Зеленый	<i>вода</i>
5	Синий	<i>кислород</i>
6	Фиолетовый	<i>щелочь</i>
7	Коричневый	<i>кислоты</i>

Максимальная оценка за правильно выполненное задание – 7 баллов

Оценка за задание 6 баллов

2. Заполните таблицу, используя подсказки.

**ОСНОВЫ БЕЗОПАСНОСТИ ЖИЗНЕДЕЯТЕЛЬНОСТИ
9 КЛАСС**

Шкалы: скорость ветра; классификации смерча; сила землетрясения; сила цунами; сила ураганов; сила ущерба землетрясения.

Максимальный балл в шкале измерения данного явления: 4, 6, 9, 12

Ученые: А. Иمامура; Д. Меркалли; Г. Саффир; Т. Фудзит; Ч. Рихтер; Ф. Бофорт; Р. Симпсон

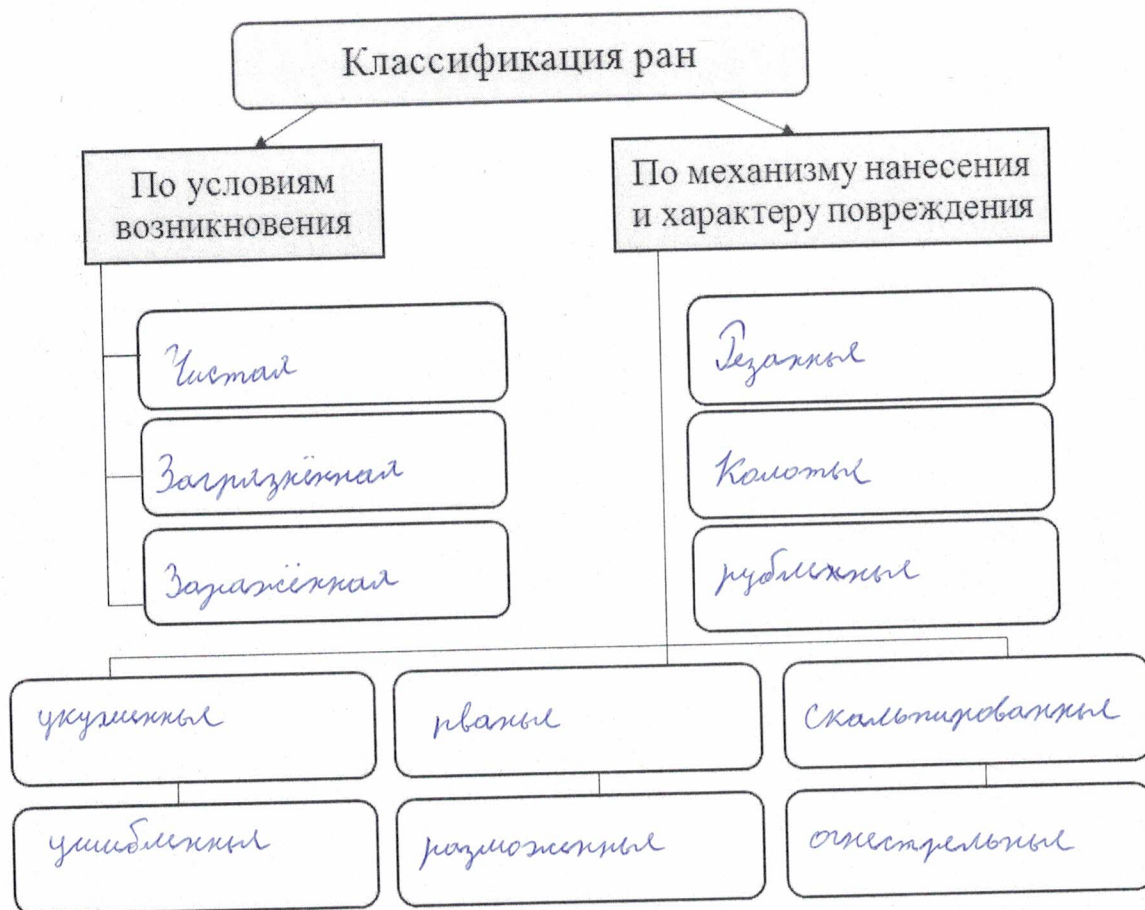
Шкала	Баллы	Ученые
Скорость ветра		
Классификация смерча	6	Т. Фудзит
Сила землетрясения	9	Ч. Рихтер
Сила цунами	6	
Сила ураганов	12	
Сила ущерба землетрясения	9	

Максимальная оценка за правильно выполненное задание – 24 балла

Оценка за задание 16 баллов

3. Напишите определение понятия «Рана» и заполните схему классификации ран.

А) РАНА – это механическая повреждение, сопровождающаяся нарушением целостности покровных тканей и характеризующаяся болью, зудом и кровотечением.



Б)

Максимальная оценка за правильно выполненное задание – 15 баллов

Оценка за задание 12 баллов

4. Правила наложения повязок. Впишите недостающие слова.

С далекой древности врачи с успехом используют при лечении ран различные повязки, изготовленные из ткани, чаще всего — _____.

_____ — учение о повязках, их правильном применении и наложении при различных повреждениях и заболеваниях. Процесс наложения повязки называют _____.

Повязками называют специальные средства, предназначенные для закрепления перевязочного материала или компресса (_____ повязки), создания давления на определенную часть тела

**ОСНОВЫ БЕЗОПАСНОСТИ ЖИЗНЕДЕЯТЕЛЬНОСТИ
9 КЛАСС**

(_____ повязки), обездвиживания (_____)
поврежденной части тела (_____ повязки).

Разновидность плоского бинта — _____ бинт, который обладает способностью растягиваться, что дает возможность плотно фиксировать поврежденную часть тела без излишнего сдавливания.

Кроме плоских применяют _____ бинты. Их основное назначение — фиксация марлевой повязки на поврежденной части тела.

Максимальная оценка за правильно выполненное задание – 9 баллов

Оценка за задание _____ баллов

ТЕСТИРОВАНИЕ

Максимальное количество баллов – 45, по 3 балла за каждый правильный ответ.

Из предложенных вариантов ответов выберите один правильный.

Правильный вариант ответа выделите любым знаком.

1. Эта ягода, внешне похожая на вишню, но на самом деле все части у этого растения **ЯДОВИТЫЕ**. И все же препаратом из этого растения лечат сердечные болезни. Эта ягода:

- А) вороний глаз;
- Б) паслен;
- В) волчегодник;
- Г) белладонна.



2. Укус этого паука не смертелен, но через 5-10 минут появляются симптомы: головная боль, слабость, ломота в суставах, жжение на месте укуса и болезненные ощущения во всем теле. Человек временно выходит из строя. Этот паук:

- А) тарантул;
- Б) крестовик;

В) каракурт;

Г) черная вдова.

3. Вы с братом катаетесь на лодке. Вдруг поднялся сильный ветер, и лодка начала качаться, брат упал в воду. Какие Ваши дальнейшие действия?

А) кричать и звать на помощь;

Б) протянуть весло и подтащить брата к корме;

В) протянуть весло и подтащить брата к борту;

Г) прыгнуть за борт и помочь брату не утонуть.

4. Опасное заболевание, которым в первую очередь рискуют заразиться лица, употребляющие наркотики:

А) гепатит;

Б) сифилис;

В) холера;

Г) туберкулез.

5. Посмотрите и определите правильное название этой эмблемы:

А) Национальное общество Красного Креста и Красного Полумесяца;

Б) Международный комитет Красного Креста;

В) Международная федерация обществ Красного Креста и Красного Полумесяца;

Г) Европейское общество Красного Креста и Красного Полумесяца;



6. Определите, верны ли суждения о международном гуманитарном праве (МГП)?

А) МГП регулирует отношения между сторонами в международном вооружённом конфликте;

Б) МГП регулирует отношения между сторонами в вооружённом конфликте, проходящем в пределах одного государства;

ОСНОВЫ БЕЗОПАСНОСТИ ЖИЗНЕДЕЯТЕЛЬНОСТИ
9 КЛАСС

- В) верны оба суждения;
Г) оба суждения неверны.

7. На уроке химии или в домашних условиях, укажите, как правильно разбавлять серную кислоту водой:

- А) вливать воду в кислоту;
 Б) вливать кислоту в воду;
В) всё равно каким способом;
Г) нельзя смешивать кислоту с водой.

8. Самый эффективный способ снятия умственного и физического напряжения:

- А) массаж;
Б) релаксация;
В) банные процедуры;
Г) сон.

9. Оказание помощи при тяжелом ранении следует начинать с:

- А) иммобилизации;
Б) обезболивания;
В) остановки кровотечения;
Г) наложение асептической повязки.

10. Согласно статистике, причинами детского травматизма чаще всего являются:

- А) беспечность взрослых;
 Б) недисциплинированность детей;
В) несчастные случаи;
Г) криминальная обстановка.

11. Вы шли по улице и увидели, что на скамейке сидит мужчина в неестественной позе и не подает никаких признаков жизни. Вы подошли к нему и смогли определить один из признаков клинической смерти:

- А) поверхностное дыхание;
- Б) нитевидный пульс;
- В) отсутствие сознания;
- Г) слабая реакция на свет.

12. По характеру нарушений физиологических функций продолжительный шум можно разделить на несколько категорий. Как называется категория, где уровень шума равен 115-120 дБ?

- А) раздражающий;
- Б) вредный;
- В) травмирующий;
- Г) смертельный.

Выберите несколько вариантов ответов:

13. В случае нарушения каких правил при работе в сети Интернет может наступить уголовная и административная ответственность?

- А) разглашение своих персональных данных;
- Б) увлечение азартными играми;
- В) использование и распространение вредоносных компьютерных программ;
- Г) нарушение этических норм;
- Д) добычу чужой конфиденциальной компьютерной информации в обход системы защиты.

14. На приближающуюся грозу указывают следующие признаки:

- А) усиление жары;
- Б) приглушенность звуков;

- В) отчетливая слышимость далеких звуков;
- Г) изнурительная духота, безветрие;
- Д) резкое понижение температуры воздуха;
- Е) постоянный сильный ветер.

15. Во время круиза на теплоходе случилась авария, в результате которой необходима посадка пассажиров на спасательные средства. Выберите из предлагаемых вариантов ваши дальнейшие действия:

- А) одеться, обуться, положить деньги и документы в полиэтиленовый пакет и убрать его в карман;
- Б) отправиться к капитану, чтобы выяснить причину происшедшего;
- В) прыгнуть за борт и плыть к ближайшей лодке;
- Г) надеть спасательный жилет;
- Д) спуститься в спасательный плот;
- Е) выполнять все указания экипажа корабля.

Оценка за задания _____ баллов

Материалы для обучающихся**ПРАКТИЧЕСКИЙ ТУР****Максимальное количество баллов – 100.****Задание № 1. Оказание первой помощи.**

Максимальное количество баллов – 40.

Оценка за задание _____ баллов.

Подпись членов жюри _____

Задание №2. Автономное существование человека в природе.

Максимальное количество баллов – 30.

Оценка за задание _____ баллов.

Подпись членов жюри _____

Задание № 3. Действия в чрезвычайной ситуации в районе аварии с выбросом АХОВ.

Максимальное количество баллов - 30.

Оценка за задание _____ баллов

Подпись членов жюри _____

ИТОГО за практический тур _____ баллов**ИТОГОВОЕ КОЛИЧЕСТВО БАЛЛОВ _____**

Подписи членов жюри _____

**Материалы для обучающихся
Теоретический тур**

Максимальное количество баллов – 100. Время выполнения – 45 мин.
ЗАДАНИЯ ОТКРЫТОГО ТИПА

Максимальное количество баллов – 55.

Дайте *полные* или *краткие ответы* на задания, *вписав их* в соответствии с требованием к их выполнению.

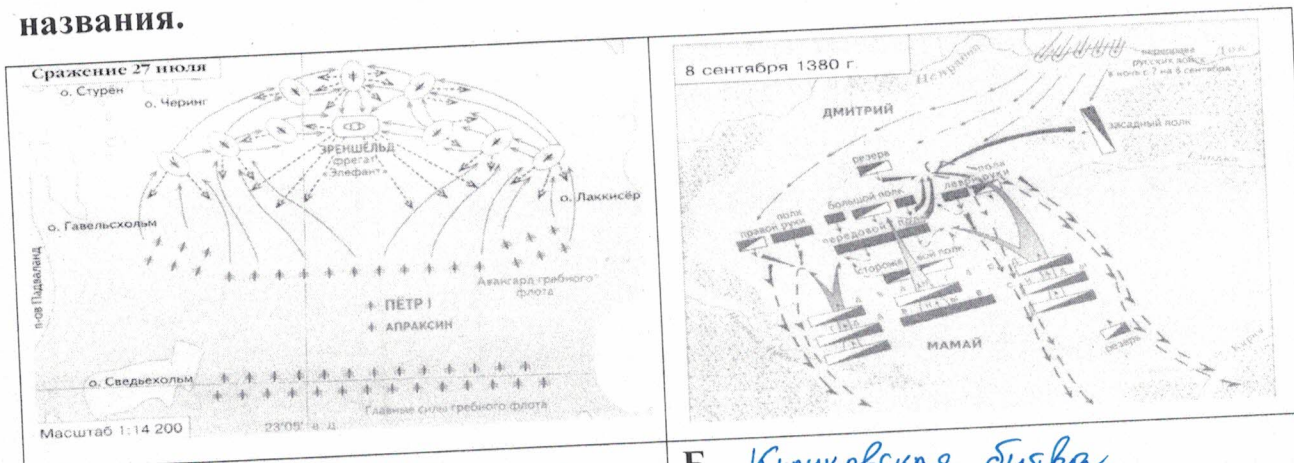
1. Соотнесите модель автомата Калашникова с аббревиатурой, соединив их стрелками.

Вид автомата Калашникова		Аббревиатура	
1		АК-12	А
2		АК-47	Б
3		АКС-47	В
4		АКС-74У	Г
5		АК-74	Д
6		АК-103	Е
7		АК-200	Ж

Максимальная оценка за правильно выполненное задание – 14 баллов

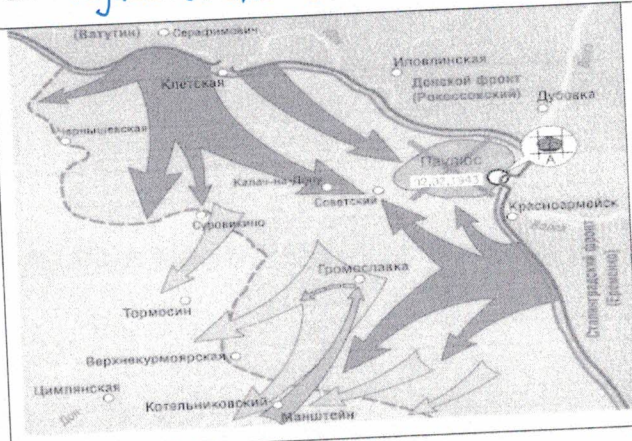
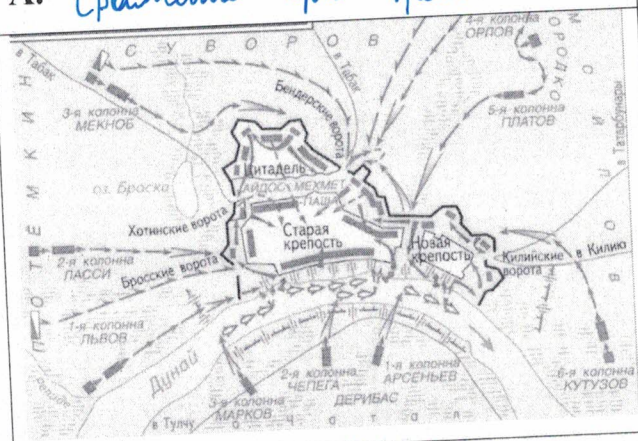
Оценка за задание _____ баллов

2. В России есть дни воинской славы, которые прославляют победы русской армии и флота. Рассмотрите карты сражений и определите их названия.



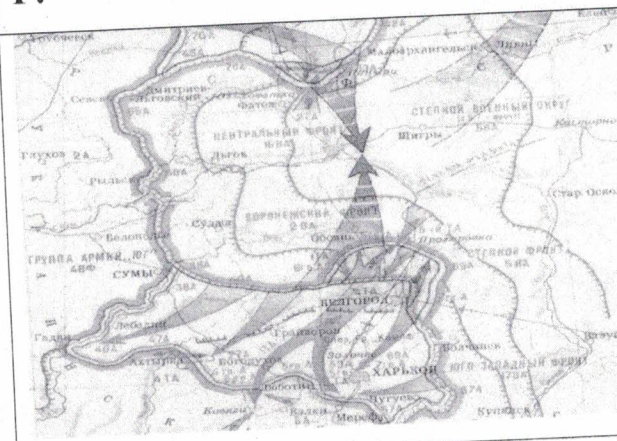
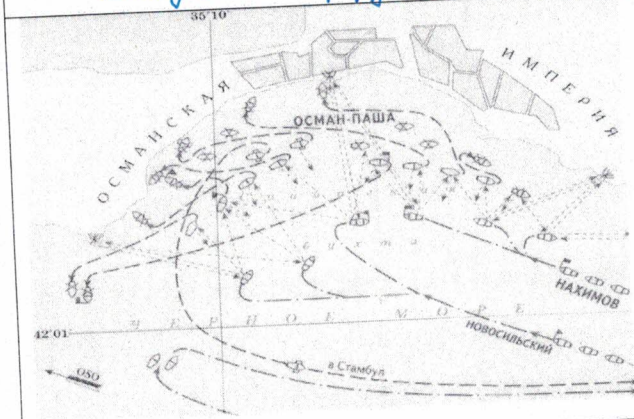
А. Сражение при Гренгаме

Б. Куликовская битва



В. Осада Хорра

Г.



Д. Синопское сражение

Е.

Максимальная оценка за правильно выполненное задание – 12 баллов

Оценка за задание _____ баллов

3. В международном гуманитарном праве есть статус «Комбатант», который имеет определённые права. Определите знаком «+» категорию лиц, которые имеют право носить это статус

Категория лиц	«+»	Категория лиц	«+»
Военнопленный	—	Шпион	+
Летчик гражданской авиации		Военнослужащий	+
Чиновник		Военный инструктор	
Разведчик	+	Военный журналист	
Ополченец		Спасатель	
Наёмник	+	Партизан	+
Священник		Военный врач	

Максимальная оценка за правильно выполненное задание – 12 баллов

Оценка за задание _____ баллов

4. Из окна второго этажа горящего дома выпрыгнул человек, он катается по снегу, пытаясь сбить пламя. Его рубашка на спине уже перестала тлеть, под остатками ткани видна черная кожа с множеством влажных трещин и пузырей. Какие ваши действия для оказания помощи пострадавшему?

Выбери правильные ответы и расположи их в порядке очередности:

1. снять с пострадавшего рубашку;
2. положить его на спину;
3. перевернуть на живот;
4. набрать как можно больше пакетов со снегом и положить их на спину;
5. удалить остатки одежды и промыть кожу чистой водой;
6. занести пострадавшего в соседнее здание;

7. удалить остатки одежды, пузыри;
8. вызвать пожарную службу и скорую помощь;
9. наложить на место ожога стерильные повязки;
10. накрыть спину чистой тканью;
11. предложить пострадавшему 2-3 таблетки анальгина;
12. предложить пострадавшему обильное теплое питье.

Ответ: 3, 9, 10, 11, 12

Максимальная оценка за правильно выполненное задание – 14 баллов

Оценка за задание _____ баллов

5. Перечислите полномочия Президента РФ на период военного времени.

Осуществляет руководство организацией обеспечения
резерва высшего положения.

Максимальная оценка за правильно выполненное задание – 3 балла

Оценка за задание _____ баллов

ТЕСТИРОВАНИЕ

Максимальное количество баллов – 45, по 3 балла за каждый правильный ответ.

Из предложенных вариантов ответов выберите один правильный.

Правильный вариант ответа выделите любым знаком.

6. Военные действия местного значения между государствами, затрагивающие территории только этих противоборствующих сторон и осуществляемые для защиты территориальных, экономических, политических интересов противника– это:

А) локальный конфликт;

Б) локальная война;

- В) региональная война;
Г) крупномасштабная война.

7. Социальное явление, выражение агрессивной позиции отдельных людей или группы лиц, в переводе с латыни слово означает «крайний», «сверх нормы»- это:

- А) терроризм;
 Б) экстремизм;
В) преступление;
Г) вандализм.

8. В этом году произошло объединение вида войск - Военно-воздушные силы с родом войск - Космические войска:

- А) 2010;
Б) 2012;
В) 2013;
 Д) 2015.

9. Первый в России вертолет, который мог действовать в любое время суток и при любой погоде. За это ударный вертолет получил прозвище «ночной охотник». По кодификации НАТО: Navoc — «Опустошитель». Какое название у данного вертолета?

- А) Ка-50;
Б) Ка -52;
 В) Ми-28;
Г) Ми-24.

10. Противопехотная мина нажимного действия советского производства. Первый вариант мины не имеет устройства самоликвидации, второй снабжён устройством, которое обеспечивает самоликвидацию мины подрывом по истечении 1 – 40 часов с момента установки. Запрещена Женевской конвенцией. У военных она называется ...

А) Лягушка;

Б) Лепесток;

В) Листок;

Г) Охота.

11. Из предметов бытовой одежды для защиты кожи от капельно-жидких отравляющих веществ в зимний период наиболее пригодны дубленки и ватники, они защищают до ...

А) до 30 мин;

Б) до 1 часа;

В) до 1,5 часа;

Г) до 2 часов.

12. При какой команде военнослужащий, должен стать свободно, ослабить в колене правую или левую ногу, но не сходить с места и не разговаривать.

А) Вольно;

Б) Становись;

В) Смирно;

Г) Равняйся.

13. Военнослужащим, проходящим военную службу по контракту, общая продолжительность которой в льготном исчислении составляет 10 лет и более, ежегодно предоставляется основной отпуск на ...

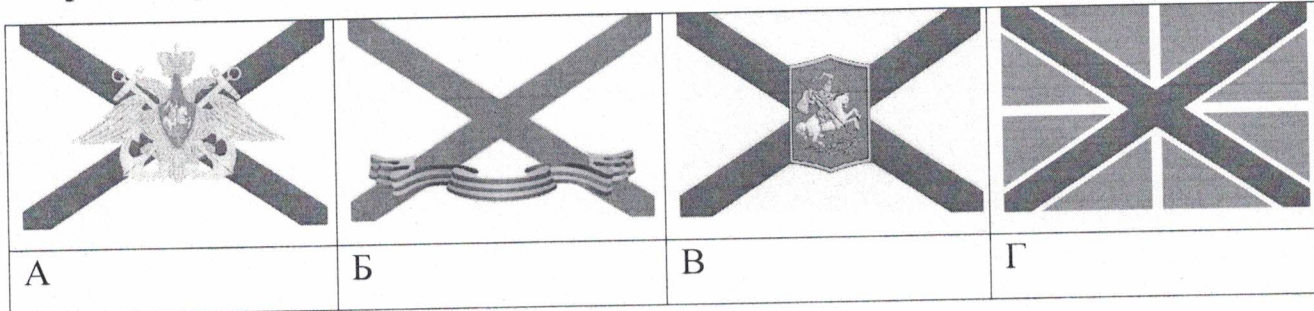
А) 30 суток;

Б) 35 суток;

В) 40 суток;

Г) 45 суток.

14. Определите, как выглядит в Российской Федерации (Георгиевский флаг ВМФ) кормовой флаг, которым в качестве высшей награды награждался корабль, чей флотский экипаж проявил исключительное мужество и отвагу в достижении победы или при защите чести военно-морского флага.



15. Огнестрельные переломы до Крымской войны 1853–1856 гг. считались показанием к первичной ампутации конечности. Н.И. Пирогов ввел «сберегательное» лечение огнестрельных переломов на войне, предложив использовать для этого (1854 г.)





- А) аппарат Илизарова;
- Б) гипсовую повязку;
- В) скелетное вытяжение;
- Г) повязку Дезо.

16. Острая, опасная для жизни аллергическая реакция, проявляющаяся обширным отеком кожи, слизистых оболочек называется

- А) крапивница;
- Б) анафилактический шок;
- В) отек Квинке;
- Г) аллергический ринит.

17. Нападения на эти объекты могут вызвать высвобождение опасных сил из-под контроля и последующие тяжелые потери среди населения.

Поэтому для обозначения этих объектов используют специальный отличительный знак. Определите, что это за знак.

			
А	Б	В	Г

18. Одним из способов ориентирования на местности является ориентирование по местным признакам и предметам. Куда обращен опущенный край нижней перекладины креста на куполе церкви?

- А) на восток;
- Б) на запад;
- В) на север;
- Г) на юг.

19. Как называется городская субкультура, последователи которой совершают «прогулки» по крышам домов и зданий?

- А) Скайуолинг;
- Б) Руфинг;
- В) Сталкинг;
- Г) Паркур.

20. Верны ли следующие суждения о защите прав и свобод человека и гражданина?

А. Защита прав и свобод человека и гражданина осуществляется только в суде.

Б. Защита прав и свобод человека и гражданина не может осуществляться с помощью самозащиты.

- А) верно только А;
- Б) верно только Б;
- В) верны оба суждения;

Г) оба суждения неверны.

Выберите несколько вариантов ответов:

21. Психологическая классификация воинских должностей имеет семь классов. Выберите правильные названия?

А) операторский;

Б) снайперский;

В) водительский;

Г) технологический;

Д) начальствующий;

Е) спортивный.

22. Определите существующие военные округа при военно-административном делении РФ в настоящее время.

А) Северный флот

Б) Северо-Кавказский военный округ

В) Восточный военный округ

Г) Балтийский флот

Д) Сибирский военный округ

Е) Центральный военный округ

23. Воинская обязанность предусматривает:

А) медицинское освидетельствование;

Б) добровольную подготовку к военной службе;

В) воинский учет;

Г) прохождение военной службы по призыву;

Д) прохождение военной службы по контракту;

Е) пребывание в запасе.

24. Методами неспецифической профилактики инфекционных заболеваний являются:

А) применение профилактических прививок;

**Материалы для обучающихся
Теоретический тур**

Максимальное количество баллов – 100. Время выполнения – 45 мин.

ЗАДАНИЯ ОТКРЫТОГО ТИПА

Максимальное количество баллов – 55.

Дайте *полные* или *краткие ответы* на задания, *вписав их* в соответствии с требованием к их выполнению.

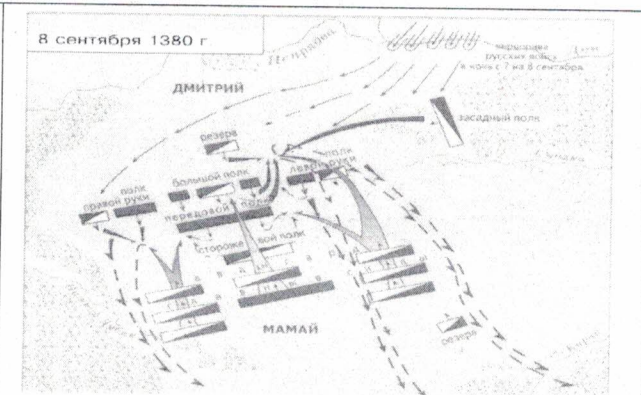
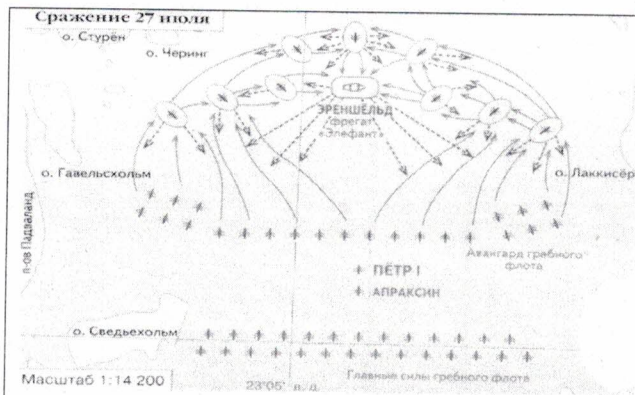
1. Соотнесите модель автомата Калашникова с аббревиатурой, соединив их стрелками.

Вид автомата Калашникова		Аббревиатура	
1		Г	АК-12 А
2		Б	АК-47 Б
3		Д	АКС-47 В
4		Е	АКС-74У Г
5		В	АК-74 Д
6		А ✓	АК-103 Е
7		Ж ✓	АК-200 Ж

Максимальная оценка за правильно выполненное задание – 14 баллов

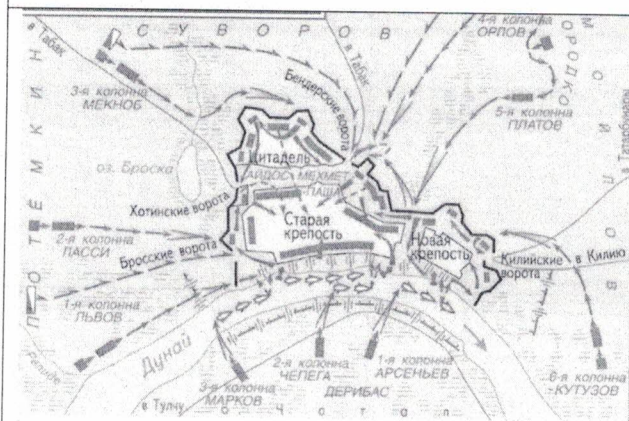
Оценка за задание 12 баллов

2. В России есть дни воинской славы, которые прославляют победы русской армии и флота. Рассмотрите карты сражений и определите их названия.



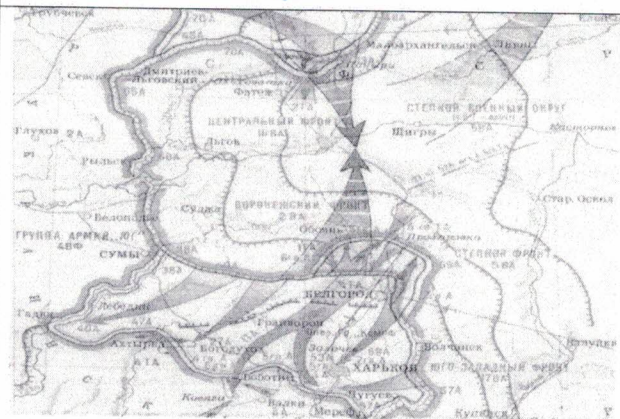
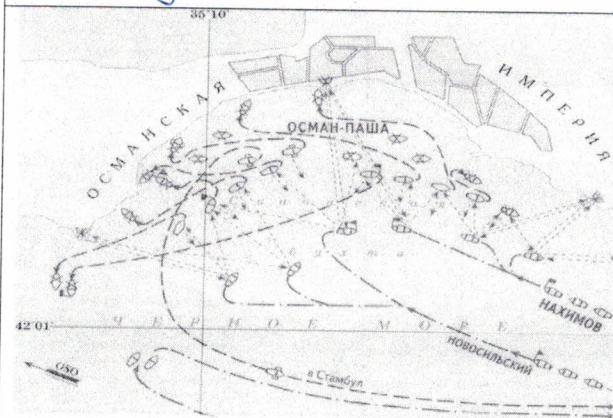
А. Гайдуцкое сражение.

Б. Куликовская битва.



В. Штурм Измаила.

Г. Сталинградская битва.



Д. Синопское сражение.

Е. Белгородско-Харьковская операция.

Максимальная оценка за правильно выполненное задание – 12 баллов

Оценка за задание _____ баллов

3. В международном гуманитарном праве есть статус «Комбатант», который имеет определённые права. Определите знаком «+» категорию лиц, которые имеют право носить этот статус

Категория лиц	«+»	Категория лиц	«+»
Военнопленный	+	Шпион	+
Летчик гражданской авиации	-	Военнослужащий	+
Чиновник	-	Военный инструктор	+
Разведчик	+	Военный журналист	+
Ополченец	+	Спасатель	-
Наёмник	+	Партизан	+
Священник	-	Военный врач	+

Максимальная оценка за правильно выполненное задание – 12 баллов

Оценка за задание 10 баллов

4. Из окна второго этажа горящего дома выпрыгнул человек, он катается по снегу, пытаясь сбить пламя. Его рубашка на спине уже перестала тлеть, под остатками ткани видна черная кожа с множеством влажных трещин и пузырей. Какие ваши действия для оказания помощи пострадавшему?

Выбери правильные ответы и расположи их в порядке очередности:

1. снять с пострадавшего рубашку;
2. положить его на спину;
3. перевернуть на живот;
4. набрать как можно больше пакетов со снегом и положить их на спину;
5. удалить остатки одежды и промыть кожу чистой водой;
6. занести пострадавшего в соседнее здание;

7. удалить остатки одежды, пузыри;
8. вызвать пожарную службу и скорую помощь;
9. наложить на место ожога стерильные повязки;
10. накрыть спину чистой тканью;
11. предложить пострадавшему 2-3 таблетки анальгина;
12. предложить пострадавшему обильное теплое питье.

Ответ: 3, 10, 11, 12.

Максимальная оценка за правильно выполненное задание – 14 баллов

Оценка за задание 10 баллов

5. Перечислите полномочия Президента РФ на период военного времени.

Утверждает: военную доктрину РФ; концепции и планы строительства и развития Вооруж. Сил. Р.Ф., другие планы; федеральные госуд. программы вооружения и развития ОПК; структуру и состав ВС. РФ, их штатную численность; присваивает высшие ^{воинские} звания.

Максимальная оценка за правильно выполненное задание – 3 балла

Оценка за задание 2 баллов

ТЕСТИРОВАНИЕ

Максимальное количество баллов – 45, по 3 балла за каждый правильный ответ.

Из предложенных вариантов ответов выберите один правильный.

Правильный вариант ответа выделите любым знаком.

6. Военные действия местного значения между государствами, затрагивающие территории только этих противоборствующих сторон и осуществляемые для защиты территориальных, экономических, политических интересов противника– это:

- А) локальный конфликт;
- Б) локальная война;

- В) региональная война;
- Г) крупномасштабная война.

7. Социальное явление, выражение агрессивной позиции отдельных людей или группы лиц, в переводе с латыни слово означает «крайний», «сверх нормы»- это:

- А) терроризм;
- Б) экстремизм;
- В) преступление;
- Г) вандализм.

8. В этом году произошло объединение вида войск - Военно-воздушные силы с родом войск - Космические войска:

- А) 2010;
- Б) 2012;
- В) 2013;
- Г) 2015.

9. Первый в России вертолет, который мог действовать в любое время суток и при любой погоде. За это ударный вертолет получил прозвище «ночной охотник». По кодификации НАТО: Navoc — «Опустошитель». Какое название у данного вертолета?

- А) Ка-50;
- Б) Ка -52;
- В) Ми-28;
- Г) Ми-24.

10. Противопехотная мина нажимного действия советского производства. Первый вариант мины не имеет устройства самоликвидации, второй снабжён устройством, которое обеспечивает самоликвидацию мины подрывом по истечении 1 – 40 часов с момента установки. Запрещена Женевской конвенцией. У военных она называется ...

А) Лягушка;

Б) Лепесток;

В) Листок;

Г) Охота.

11. Из предметов бытовой одежды для защиты кожи от капельно-жидких отравляющих веществ в зимний период наиболее пригодны дубленки и ватники, они защищают до ...

А) до 30 мин;

Б) до 1 часа;

В) до 1,5 часа;

Г) до 2 часов.

12. При какой команде военнослужащий, должен стать свободно, ослабить в колене правую или левую ногу, но не сходить с места и не разговаривать.

А) Вольно;

Б) Становись;

В) Смирно;

Г) Равняйся.

13. Военнослужащим, проходящим военную службу по контракту, общая продолжительность которой в льготном исчислении составляет 10 лет и более, ежегодно предоставляется основной отпуск на ...

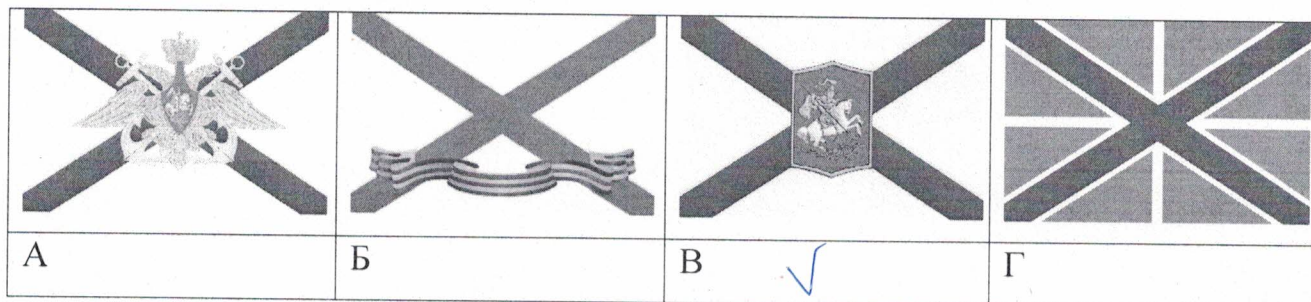
А) 30 суток;

Б) 35 суток;

В) 40 суток;

Г) 45 суток.

14. Определите, как выглядит в Российской Федерации (Георгиевский флаг ВМФ) кормовой флаг, которым в качестве высшей награды награждался корабль, чей флотский экипаж проявил исключительное мужество и отвагу в достижении победы или при защите чести военно-морского флага.



15. Огнестрельные переломы до Крымской войны 1853–1856 гг. считались показанием к первичной ампутации конечности. Н.И. Пирогов ввел «сберегательное» лечение огнестрельных переломов на войне, предложив использовать для этого (1854 г.)





- А) аппарат Илизарова;
- Б) гипсовую повязку;
- В) скелетное вытяжение;
- Г) повязку Дезо.

16. Острая, опасная для жизни аллергическая реакция, проявляющаяся обширным отеком кожи, слизистых оболочек называется

- А) крапивница;
- Б) анафилактический шок;
- В) отек Квинке;
- Г) аллергический ринит.

17. Нападения на эти объекты могут вызвать высвобождение опасных сил из-под контроля и последующие тяжелые потери среди населения.

Поэтому для обозначения этих объектов используют специальный отличительный знак. Определите, что это за знак.

			
А	Б	В	Г ✓

18. Одним из способов ориентирования на местности является ориентирование по местным признакам и предметам. Куда обращен опущенный край нижней перекладины креста на куполе церкви?

А) на восток;

Б) на запад;

В) на север;

Г) на юг.

19. Как называется городская субкультура, последователи которой совершают «прогулки» по крышам домов и зданий?

А) Скайуолинг;

Б) Руфинг;

В) Сталкинг;

Г) Паркур.

20. Верны ли следующие суждения о защите прав и свобод человека и гражданина?

А. Защита прав и свобод человека и гражданина осуществляется только в суде.

Б. Защита прав и свобод человека и гражданина не может осуществляться с помощью самозащиты.

А) верно только А;

Б) верно только Б;

В) верны оба суждения;

Г) оба суждения неверны.

Выберите несколько вариантов ответов:

21. Психологическая классификация воинских должностей имеет семь классов. Выберите правильные названия?

- А) операторский;
- Б) снайперский;
- В) водительский;
- Г) технологический;
- Д) начальствующий;
- Е) спортивный.

22. Определите существующие военные округа при военно-административном делении РФ в настоящее время.

- А) Северный флот *Североморск*
- Б) Северо-Кавказский военный округ *Ставрополь, Дагестан*
- В) Восточный военный округ *Хабаровск*
- Г) Балтийский флот *Калининград, Кронштадт*
- Д) Сибирский военный округ *Сибирь*
- Е) Центральный военный округ *Ловлясье, ~~Сибирь~~, Урал*

23. Воинская обязанность предусматривает:

- А) медицинское освидетельствование;
- Б) добровольную подготовку к военной службе;
- В) воинский учет;
- Г) прохождение военной службы по призыву;
- Д) прохождение военной службы по контракту;
- Е) пребывание в запасе.

24. Методами неспецифической профилактики инфекционных заболеваний являются:

- А) применение профилактических прививок;