

Заполняется ПЕЧАТНЫМИ БУКВАМИ чернилами черного или синего цвета по образцам:

А	Б	В	Г	Д	Е	Ж	З	И	К	Л	М	Н	О	П	Р	С	Т	У	Ф	Х	Ц	Ч	Ш	Щ	Ъ	Ы	Ь	Э	Ю	Я	@	8	9	,
A	B	C	D	E	F	G	H	I	J	K	L	M	N	O	P	Q	R	S	T	U	V	W	X	Y	Z	1	2	3	4	5	6	7	0	.

ПРЕДМЕТ ИСТОРИЯ

КЛАСС 11

ДАТА 21 . 09 . 2023

И - 35

ШИФР УЧАСТНИКА

ФАМИЛИЯ МАЛОСИЛКО

ИМЯ ЮЛИЯ

ОТЧЕСТВО ВЛАДИМИРОВИЧ

Документ удостоверяющий личность

свидетельство о рождении

паспорт

серия

номер

Гражданство

Российская Федерация

Иное

Дата рождения 01 . 07 . 2006

Домашний телефон участника + 7

Мобильный телефон участника + 7

Электронный адрес участника

ИСТОРИЯ
11 КЛАСС

Шифр участника И-35

Задания для обучающихся.

Время выполнения - 90 мин.

Максимальный балл - 100

Задание 1. Напишите пропущенный термин (понятие). Ответом может быть как одно слово, так и словосочетание (10 баллов - 1 балл за ответ):

1. Восточнославянское племя, восставшее против повторного сбора дани князем Игорем? Древляне
2. Бог являвшийся покровителем скота и скотоводства и восточных славян?
Велес
3. Часть города или поселение в целом, население которого было освобождено от уплаты налогов: Белые земли
4. Название общины в Древней Руси? Вервь
5. Автор «Слова о законе и благодати»? Иларион Киевский (Митрополит)
6. Кружок друзей Ивана IV фактически являвшийся правительством страны в начале его правления? Опекунский совет
7. Натуральный налог с народов Поволжья, Русского Севера и Сибири преимущественно пушниной? Ясак
8. Таблица, структурирующая чины государственной службы введённая Петром Первым? Табель о рангах
9. По реформе П.А. Столыпина участок земли, после выхода крестьянина из общины, с переносом усадьбы владельца? Отруб
10. Международная организация, образованная в 1920 году для организации системы коллективной безопасности и решения споров между государствами дипломатическим путём? Лига наций

Задание 2. Установите соответствие русских правителей и событий из Отечественной истории За каждый правильный ответ 1 балл

1	Княгиня Ольга	А	Созыв Уложенной Комиссии
2	Ярослав Мудрый	Б	Отмена местничества
3	Борис Годунов	В	Упорядочение сбора дани
4	Михаил Федорович	Г	Восстание Хлопка

**ИСТОРИЯ
11 КЛАСС**



- 1) Данная марка была выпущена в 1960-х гг.
- 2) Инициатором события, которому посвящена марка, был Б. М. Хмельницкий.
- 3) Событие, изображённое на марке, происходило в Москве.
- 4) Последствием события, которому посвящена марка, стала Смоленская война.
- 5) В год выпуска данной марки часть территории РСФСР была передана Украинской ССР.
- 6) Царь, в правление которого происходили эти события, получил прозвище «Тишайший».

60 Ответ: 256

Задание 6. Рассмотрите схему и выполните задания (8 баллов. По 2 балла за каждый верный ответ):

1. Укажите имя правителя России во время войны, события которой обозначены на схеме. Иванкай II

2. Укажите название города, обозначенного на схеме цифрой «1» Порт-Артур

3. Укажите название сражения, обозначенного на схеме цифрой «2».

Ижевское сражение

**ИСТОРИЯ
11 КЛАСС**

Задание 7. Прочитайте текст (фрагмента выступления) и выполните задания после него (8 баллов):

Из исторического документа

1) Помещичья собственность на землю отменяется немедленно без всякого выкупа.

2) Помещичьи имения, равно как все земли удельные, монастырские, церковные, со всем их живым и мёртвым инвентарём, усадебными постройками и всеми принадлежностями, переходят в распоряжение Волостных Земельных Комитетов и Уездных Советов Крестьянских Депутатов, впредь до разрешения Учредительным Собранием... <...>

4) Для руководства по осуществлению великих земельных преобразований, впредь до окончательного их решения Учредительным Собранием, должен повсюду служить следующий крестьянский наказ, составленный на основании 242 местных крестьянских наказов редакцией “Известий Всероссийского Совета крестьянских депутатов”. <...>

Право частной собственности на землю отменяется навсегда; земля не может быть ни продаваема, ни покупаема, ни сдаваема в аренду либо в залог, ни каким-либо другим способом отчуждаема. Вся земля: государственная, удельная, кабинетская, монастырская, церковная, посессионная, майоратная, частновладельческая, общественная и крестьянская и т. д., отчуждается безвозмездно, обращается в всенародное достояние и переходит в пользование всех трудящихся на ней. <...>

Все недра земли, руда, нефть, уголь, соль и т. д., а также леса и воды, имеющие общегосударственное значение, переходят в исключительное пользование государства. <...>

Весь хозяйственный инвентарь конфискованных земель, живой и мёртвый, переходит в исключительное пользование государства или общины, в зависимости от величины и значения их, без выкупа. Конфискация инвентаря не касается малоземельных крестьян. <...>

Землепользование должно быть уравнительным, т. е. земля распределяется между трудящимися, смотря по местным условиям по трудовой или потребительной норме. <...>

Земельный фонд подвергается периодическим переделам в зависимости от прироста населения...

**ИСТОРИЯ
11 КЛАСС**

московских, от Калиты до Василия Тёмного, многое приготовили для единовластия и нашего внутреннего могущества, но

Россия при Иоанне III как бы вышла из сумрака теней... Иоанн, рождённый и воспитанный данником степной Орды... сделался одним из знаменитейших государей в Европе; без учения, без наставлений, руководствуемый только природным умом... силою и хитростью восстанавливая свободу и целостность России, губя царство Батыево, тесня... Литву, сокрушая вольность новгородскую, захватывая уделы, расширяя владения московские...

Что оставил миру Александр Македонский? – Славу. Иоанн оставил государство, удивительное пространством, сильное народами, ещё сильнее духом правления. Россия Олегова, Владимирова, Ярославова погибла в нашествии монголов. Россия нынешняя образована Иоанном».

А) Укажите хронологические рамки периода правления Ивана III (1 балл). Почему Россия около трёх веков находилась вне круга европейской политической деятельности?

(2 балла за верное обоснование). 1462-1505 гг - годы правления Ивана III; Русь попала
под власть в зависимости от Золотой Орды, вследствие митрополитского нашествия в XI

Б) С какими двумя важнейшими процессами в истории российской государственности совпало княжение Ивана III? (3 балла за два верно указанных процесса). 1) Укрепление "новой государственной системы",

2) Завершение формирования русских земель

3) Укрепление ординского ша

В) Какие события имел в виду историк, говоря о сокрушении «вольности новгородской» и гибели «царства Батыева»? Укажите не менее двух событий. Ответ поясните (По 2 балла за каждое событие с пояснением). 1) Битва на реке Шелонь - 1471 г

2) Стояние на реке Угре - 1480 г

3) Присоединение Новгорода к Москве 1478 г

Задание 9. Заполните пустые ячейки таблицы, используя представленные в приведённом ниже списке данные. Для каждой ячейки, обозначенной буквами, выберите номер нужного элемента. (12 баллов, по два балла за каждый верный ответ)

**ИСТОРИЯ
11 КЛАСС**

2. Творческий характер восприятия темы, её осмысления.
3. Грамотность использования исторических фактов и терминов.
4. Чёткость и доказательность основных положений работы.
5. Знание различных точек зрения по избранному вопросу.

Темы сочинения:

1. Влияние Золотой Орды на развитие Древней Руси в XIII-XV вв.
2. Петровские реформы и их оценка историками и современниками.
3. Отечественная война 1812 года и ее влияние на развитие России в первой половине XIX века.
4. Великие реформы 1860-1870-х годов и их противоречия.
5. Индустриализация СССР и её роль в победе в Великой Отечественной войне.

Желаем удачи!

Ответ:

25
Тема сочинения: Влияние Золотой Орды на развитие Древней Руси в XIII-XV вв.

Орднское владычество привело к длительному упадку в экономической, политической и культурном развитии русских земель, положение начало отставанию их от передовых западноевропейских стран. Запустели и пришли в упадок старые земельные центры и некогда завоеванные территории. Границы земледелия отодвинулись на север.

Массовому разорению и уничтожению подверглись русские города, их роль в жизни страны упала, многие навсегда или возродились через 150-300 лет, такие ремесла как: камень, чернь, перегородчатая эмаль, керамика. Приостановилось каменное строительство, пришло в упадок изобразительное и прикладное искусство. Ослабла связь городского ремесла с рынком, затормозилось развитие товарного производства. Дать "серебра", привлекла к утечке его в Золотую Орду и почти полностью прекращению денежного обращения внутри страны, что обескровило страну.

Десятки тысяч людей погибли в битвах или были угнаны в рабство в результате непрерывавшихся набегов монголо-татар на русские земли. Только за последние четверть XIII века было совершено 14 крупных вторжений монголов на Русь, не считая более мелких набегов. Многие города, такие как: Переяславль-За-

Заполняется ПЕЧАТНЫМИ БУКВАМИ чернилами черного или синего цвета по образцам:

А	Б	В	Г	Д	Е	Ж	З	И	К	Л	М	Н	О	П	Р	С	Т	У	Ф	Х	Ц	Ч	Ш	Щ	Ъ	Ы	Ь	Э	Ю	Я	@	8	9	,
А	В	С	Д	Е	Г	Ж	З	И	К	Л	М	Н	О	П	Р	С	Т	У	Ф	Х	Ц	Ч	Ш	Щ	Ъ	Ы	Ь	Э	Ю	Я	@	8	9	,

ПРЕДМЕТ ИСТОРИЯ

КЛАСС 10

ДАТА 21 . 09 . 2023

N 31

ШИФР УЧАСТНИКА

ФАМИЛИЯ СМЫШНОВА

ИМЯ ВЕРОНИКА

ОТЧЕСТВО ВИТАЛЬЕВНА

Документ удостоверяющий личность

свидетельство о рождении

паспорт

серия

номер

Гражданство

Российская Федерация

Иное

Дата рождения 23 . 10 . 2007

Домашний телефон участника + 7

Мобильный телефон участника + 7

Электронный адрес участника

Шифр участника И-31**Задания для обучающихся****Время выполнения заданий – 90 минут****Максимальное количество баллов – 100**

1. Выберите один ответ из предложенных ответов и соответствующий номер ответа внеси в таблицу (по 1 баллу, максимально – 15 баллов)

1. В каком году произошло объединение Киева и Новгорода в единое государство?

- 1) 862 2) 882 3) 911 4) 944

2. В какой битве войска русских князей потерпели сокрушительное поражение?

- 1) Куликовская битва 2) «стояние на Угре»
3) битва на Калке 4) Ледовое побоище

3. Первый свод законов Древней Руси

- 1) «Солическая правда» 2) «Повесть временных лет»
3) «Русская правда» 4) «Соборное уложение»

4. К памятникам зодчества Древней Руси IX – начала XII вв. относится

- 1) Успенский собор в Москве 2) Софийский собор в Киеве
3) церковь Вознесения в Коломенском 4) Троице-Сергиев монастырь

5. Князь, который начинает собирание русских земель вокруг Москвы

- 1) Даниил Александрович 2) Иван Калита
3) Иван III 4) Иван IV

6. Что из названного относится к причинам Смуты?

- 1) установление бессрочного сыска беглых крестьян
2) пресечение царской династии
3) введение новой системы продвижения дворян по службе
4) отмена системы кормлений

7. Что из названного относится к последствиям опричнины?

- 1) победа Российского государства в Ливонской войне
2) создание стрелецкого войска

- 3) нарушение Россией условий континентальной блокады
 4) противоречия между Тройственным союзом и Антантой

Ответ:

10

1	2	3	4	5	6	7	8	9	10	11	12	13	14	15
2	3	3	4,2	1	2	3	1	4	1	4	2	2	2	4

1 1 1 - - 1 1 1 - 1 1 - 1 1 -

2. Выберите несколько ответов из предложенных (по 1 баллу, максимально – 10)

1. Какие из перечисленных ниже событий связаны с правлением Ивана III:

- 1) учреждение опричнины
 2) присоединение Новгорода к Москве
 3) деятельность Избранной рады
 4) стояние на р. Угре
 5) созыв Земского собора
 6) женитьба на Софье Палеолог

2. Какие из перечисленных ниже событий связаны с правлением Ивана IV:

- 1) учреждение опричнины
 2) присоединение Новгорода к Москве
 3) деятельность Избранной рады
 4) стояние на р. Угре
 5) созыв Земского собора
 6) женитьба на Софье Палеолог

3. Какие из перечисленных ниже событий связаны с правлением Алексея Михайловича:

- 1) «Медный бунт» в Москве
 2) создание коллегий
 3) издание указа о единонаследии
 4) присоединение Украины к России
 5) крестьянское восстание под предводительством С.Т. Разина
 6) введение нового летосчисления

4. Какие из перечисленных ниже событий связаны с правлением Петра I:

- 1) Великое посольство в Европу
 2) Северная война России со Швецией
 3) секуляризация церковных земель
 4) основание Черноморского флота
 5) учреждение Сената
 6) принятие Жалованной грамоты городам

ВСЕРОССИЙСКАЯ ОЛИМПИАДА ШКОЛЬНИКОВ 2023/24 гг.
ШКОЛЬНЫЙ ЭТАП

ВСОШ

ВСЕРОССИЙСКАЯ
ОЛИМПИАДА
ШКОЛЬНИКОВ

ИСТОРИЯ
КЛАСС 10

- 3) Национализация всех помещичьих земель
- 4) Ликвидация гражданских и сословных чинов
- 5) Свержение монархии и провозглашение республики
- 6) Разрешение деятельности политических партий

Ответ:

1	2	3	4	5	6	7	8	9	10
2, 4	1, 5	1, 2	1, 2, 5	1, 4, 5	2, 3	1, 4, 6	3, 4, 6	1, 2, 4	1, 2, 6
1	1	0	1	0	1	1	1	0	1

3. Установите последовательность (по 2 балла, максимально – 6)

1. Расположите фамилии исторических деятелей в хронологической последовательности:

- 1) Э. Бирон
- 2) Г. Потемкин
- 3) А. Аракчеев
- 4) А. Ордин-Нащокин
- 5) А. Меншиков

Ответ: 45123

2. Расположите появление категории крестьян в хронологической последовательности:

- 1) Военные поселяне
- 2) Рядович
- 3) Батрак
- 4) Посессионный
- 5) Крепостной

0 Ответ: 32541

3. Расположите реформы, проводимые в России в хронологической последовательности

- 1) Отмена крепостного права
- 2) Губернская реформа
- 3) Столыпинская аграрная реформа
- 4) Земская реформа П.А. Валуева
- 5) Денежная реформа С. Витте

0 Ответ: 15243

4. Установите соответствие (по 4 балла, максимально – 16)

1. Установите соответствие между процессами (явлениями, событиями) и фактами, относящимися к этим процессам:

События (процессы, явления)		Факты	
А	Ограничение кровной мести	1	Договоры Олега
Б	Походы в Византию	2	Любечский съезд князей
В	Укрепление государства при Владимире	3	Принятие Русской правды

А3 Б1 В4 Г2

4. Установите соответствие между правителями и политикой в отношении церкви:

Правитель		Договор	
А	Князь Владимир 1	1	Церковная реформа патриарха Никона
Б	Алексей Михайлович Романов	2	Создание Священного Синода
В	Петр 1	3	Крещение Руси
Г	Павел 1	4	Начало Реформации
		5	Отмена гонений на старообрядцев

Ответ:

А	Б	В	Г
4	5	1	2

5. Заполните пропущенные элементы в тексте. (4 балла, максимально – 12)

1. «В год 6370 изгнали варягов за море, и не дали им дани, и начали сами собой владеть, и не было среди них правды, и встал род на род, и была у них усобица, и стали воевать друг с другом. И сказали себе: «Поищем себе князя, который бы владел нами и судил по праву». И пошли за море к _____ 1 _____, к руси... Сказали руси чудь, славяне, кривичи и весь: «Земля наша велика и обильна, а порядка в ней нет. Приходите княжить и владеть нами». И избрались трое братьев со своими родами, и взяли с собой всю русь, и пришли и сел старший, _____ 2 _____, в _____ 3 _____, а другой, Синеус, на Белоозере, а третий, Трувор – в Изборске. И от тех варягов прозвалась _____ 4 _____».

Ответ:

1	2	3	4
варягам	Рюрик	Новгород	Русская земля

2. «Двенадцать лет спустя вспыхнуло мощное, хотя и скоротечное восстание в Москве – знаменитый «_____ 1 _____ бунт»... Его участники – столичные _____ 2 _____ люди и часть _____ 3 _____, солдат, рейтар московского гарнизона предъявили царю Алексею Михайловичу свои требования. В известной мере повторилось то, что произошло во время «_____ 4 _____ бунта». Но обстановка к тому времени изменилась довольно заметно, поэтому и ход восстания и его финал существенно отличаются от того, что было в начале правления Алексея».

Из официального документа XIX в.:

«1. Защита престола и отечества есть священная обязанность каждого русского подданного. Мужское население без различия состояний подлежит воинской повинности.

2. Денежный выкуп от воинской повинности и замена охотником не допускаются...

10. Поступление на службу по призывам решается жребием, который вынимается единожды на всю жизнь. Лица, по номеру вынутого ими жребия не подлежащие поступлению в постоянные войска, зачисляются в ополчение...

17. Общий срок службы в сухопутных войсках для поступающих по жребию определяется в 15 лет; из коих 6 лет действительной службы и 9 лет в запасе...

20. Указанные в ... статьях сроки службы устанавливаются собственно для мирного времени; во время же войны, состоящие в сухопутных войсках и во флоте обязаны оставаться на службе до тех пор, пока того будет требовать государственная надобность».

66
1. Как называлась реформа, о которой говорится в приведенном отрывке из документа? Военная реформа Александра II 1874 года.

2. Укажите фамилию автора реформы и дату появления документа
Миллютин, 1874

3. Укажите, как называлась война, поражение России в которой способствовало осознанию необходимости проведения этой реформы
Крымская война

3
4. Укажите три новшества, которые в порядке прохождения военной службы вводились этой реформой. Новое название оружия, введение воинских повелений, сокращение срока службы

8. Выберите высказывание и напишите историческое сочинение. (До 25 баллов)

1. «Из трех старых центров Руси, с которыми была связана его княжеская судьба, в Киеве Мономах... добился наибольших успехов. На киевском столе в полной мере

Заполняется ПЕЧАТНЫМИ БУКВАМИ чернилами черного или синего цвета по образцам:

А	Б	В	Г	Д	Е	Ж	З	И	К	Л	М	Н	О	П	Р	С	Т	У	Ф	Х	Ц	Ч	Ш	Щ	Ъ	Ы	Ь	Э	Ю	Я	@	8	9	,
А	В	С	Д	Е	Г	Ж	З	И	К	Л	М	Н	О	П	Р	С	Т	У	Ф	Х	Ц	Ч	Ш	Щ	Ъ	Ы	Ь	Э	Ю	Я	@	8	9	,

ПРЕДМЕТ ИСТОРИЯ

КЛАСС 9А

ДАТА 21 . 09 . 2023

И-30

ШИФР УЧАСТНИКА

ФАМИЛИЯ ЧЕРЕПКОВА

ИМЯ ДАРЬЯ

ОТЧЕСТВО АЛЕКСЕЕВНА

Документ удостоверяющий личность

свидетельство о рождении

паспорт

серия

номер

Гражданство

Российская Федерация

Иное

Дата рождения 24 . 05 . 2008

Домашний телефон участника + 7

Мобильный телефон участника + 7

Электронный адрес участника

Задания для обучающихся

Время выполнения заданий 90 минут

Максимальное количество баллов 100

Задание 1. Выберите правильный ответ. *Максимальный балл – 5 (по 1 баллу за отрывок).* О ком идет речь в данном отрывке? Ответ занесите в таблицу.

В этом покойном государе был героический, мужественный дух и проявлялись многие хорошие, достойные похвалы добродетели, но у него были также и пороки, а именно: беспечность и тщеславие, из-за чего, без сомнения, благой Бог и наложил на него эту кару. Беспечность приняла у него такие размеры, что он даже гневался на тех, кто говорил об измене московитов и о том, что они намереваются убить его вместе с поляками. Тщеславие ежедневно возрастало и у него, и у его царицы, оно проявлялось не только в том, что во всякой роскоши и пышности они превзошли других бывших царей, но он приказал даже именовать себя «Царем всех царей»

- А. Иван III
- Б. Лжедмитрий
- В. Борис Годунов
- Г. Михаил Романов.

Главным представителем этой партии была... ученица Симеона Полоцкого, личность, безусловно, умная, энергичная, которой душно было в тесной полумонашеской обстановке, окружавшей московских царевен; образование расширило её умственный кругозор, выработало в ней широкие запросы жизни, а отсутствие стесняющего внешнего авторитета родительской власти позволило... искать ответы на эти вопросы вне терема. Она тесной сердечной связью сблизилась с замечательнейшей личностью того времени, князем В.В.Голицыным, и вмешивалась в общественную жизнь.

- А. Елена Глинская
- Б. Софья Алексеевна
- В. Елизавета Петровна
- Г. Екатерина Дашкова

...рожденный и воспитанный данником степной Орды, сделался одним из знаменитейших государей в Европе; ...без учения, без наставлений, руководствуемый только

трапез, позднее – это придворный чин ниже боярского. Назначался на воеводские, посольские, приказные должности.

- А. становой
- Б. целовальник
- В. стольник
- Г. окольный

Государственный служащий в России начала XVIII, чиновник прокурорской службы в коллегиях, губерниях

- А. подьячий
- Б. урядник
- В. фискал
- Г. бурмистр

Орган местного самоуправления. Состоял из уездных и губернских собраний и управ, находился под губернаторским контролем, решал местные вопросы, не имел политических прав

- А. курия
- Б. дистрикт
- В. земство
- Г. воеводство

2.4 Орган центральной исполнительной власти, появился в России на рубеже XV-XVI веков.

- А. коллегия
- Б. приказная изба
- В. приказ
- Г. управа

2.5. В древнем Риме: имевший силу закона письменный ответ императора на представленный ему для разрешения вопрос. В России с XVIII века письмо монарха к подданному с выражением благодарности за оказанные услуги, с объявлением о награде или обращении монарха, содержащее какое-либо поручение.

- А. указ
- Б. рескрипт
- В. манифест

- 1 3. Кого автор называет врагом всей Европы? Французов. Императора Наполеона
- 0 4. Какую особенность истории Германии упоминает автор документа? мужество и храбрость воинов французского племени. Освобождение от франкского плена.
- 1 5. Как называют военная компания, в ходе которой появился данный документ? Битва под Лейпцигом.

Стрелцы, чье жалование также было уменьшено и убавлено, так что они не могли им себя прокормить, пристали к народу и тотчас после обеда напали на двор Бориса Ивановича Морозова (...) его двор был в конец расхищен, различные найденные ими драгоценные вещи они порубили в куски топорами и саблями; все золотые и серебряные изделия расплющили, драгоценный жемчуг и другие камни истолкли в порошок, потоптали ногами, пошвыряли за окно, не позволяя никому что-либо унести с собою, крича во все горло: «То наша кровь» (...) Оттуда они с адской злобой напали на дворы различных других бояр, где (сокрушая все) не оставили в целости и малейшей безделицы, меж тем наступила ночь, и разбой несколько поутих, но с раннего утра снова принялись разорять и грабить дворы многих других знатных господ и русских торговых людей, которые так или иначе зависели от прежде помянутых (бояр).

Учинив это, они всем скопом устремились в Кремль и вызывали на суд бежавшего Морозова, бежавшего Плещеева вместе с бежавшим Траханиотовым, а также его царское величество и домогались, чтобы выдали им в руки (беглецов), того ради его царского величества тотчас выдал им Плещеева, дабы ему публично отсекли топором голову.

- 1 1. О каком событии идет речь? Солонной бунт.
- 1 2. Когда и где оно произошло? 1648г. Москва
- 1 3. В правление какого монарха случилось? Алексей Михайлович.
- 1 4. Чем завершилось указанное событие? 1) Вынужденное бегство на уступки; 2) Усиленные наказания для тех, кто шел против царя.
- 1 5. Что являлось причиной и поводом выступления народа? Поводом для бунта стало увеличение цены на соль, предложенное царю боярином Б.Н. Морозовым.

Ответ: _____

Задание 6. Какие суждения об изображенной картине являются верными? Определите верные и неверные утверждение. Ответ занесите в таблицу. Максимальный балл – 12 балла. (Каждый правильный ответ – 2 балла)



1. Картина написана в первой половине XVIII века
2. Автором картины является художник Ф. Рокотов
3. Картина является примером парадного портрета
4. Изображение создано на основе принципов импрессионизма
5. Императрица, изображенная на картине, символизирует жрицу в храме Правосудия
6. На картине изображена Елизавета Петровна.

125

1	2	3	4	5	6
Нет	Нет	Да	Нет	Да	Нет
2	2	2	2	2	2

Задание 7. Свидетельством какого социально-экономического процесса является отрывок из документа? Какие термины относятся к характеристике данного процесса? Максимальный балл – 10. (Каждый правильный ответ – 1 балл)

Понеже хотя по прежним указам купецким людям деревень покупать было и запрещено, и тогда-то запрещение было того ради, что они, кроме купечества, к пользе государственной других никаких заводов не имели; а ныне нашим указам, как всем видно, что многие купецкие люди компаниями, и особно многие возымели к приращению государственной пользы заводить вновь разные заводы (...). Того ради позволяется сим нашим указом, для размножения таких заводов, как шляхетству, так и купецким людям, к тем за-

ИСТОРИЯ
9 КЛАСС

Какие суждения, относящиеся к данной схеме, являются верными? К середине XVII в. русские исследователи вышли к побережью Тихого океана.

- 1) Двумя цифрами «5» на схеме обозначен маршрут экспедиции Семёна Дежнёва.
- 2) Маршрут экспедиции Ерофея Хабарова показан на схеме двумя цифрами «4».
- 3) Города (остроги) Мангазея и Томск основаны во время правления Бориса Годунова.
- 4) До начала правления династии Романовых в Сибири не было построено ни одного русского острога.
- 5) Договор с Китаем об определении границы был заключён в период фактического правления Софьи Алексеевны

Выберите три суждения из шести предложенных. Запишите цифры, под которыми они указаны. 1, 2, 5.

Задание 9. Напишите фамилию, имя, отчество поэта, название произведения – первого опубликованного в Омске стихотворения, о котором упоминается в тексте, а также номер школы, в которой учился поэт. Максимальный балл – 5. (каждый верный ответ – 1 балл)

Родился в семье военнослужащего, в селе Косиха, Западно - Сибирского края. Через несколько месяцев семья переехала в с. Ново Царицыно Шербакульского района Омской области, затем в Омск (1933). Получил фамилию и отчество отчима, сумевшего заменить ему погибшего отца. В 1940 г. будущий поэт пошел в школу г. Омска. Первая публикация – стихотворение - появилась 8 июля 1941 г. в газете «Омская правда». «С винтовкой мой папа уходит в поход. / Желаю, любимый, побед! / И мама зеленую сумку берет, / Уходит с сестрой лазарет...» В конце 1943 с матерью переехали в Москву, где окончил Литературный институт им. М. Горького. Стихи поэта переведены на многие языки. Известен и как поэт-песенник, поэт особенно дорожил поэмой «Реквием». В 2006 г. в Омске вышла книга «Берег мой. ...». «Омская книга» – первая книга поэта, изданная в Омске. Она объединила стихотворения о нашем городе и поэмы, опубликованные, прежде всего, в омской прессе. Награжден двумя орденами, медалями. В 2002 г. открыта мемориальная доска на здании гимназии г. Омска, где учился поэт.

Ответ: Роберт Иванович Рождественский.

«С винтовкой мой папа уходит в поход»

**ИСТОРИЯ
9 КЛАСС**

7. Время появления западничества в общественном движении стало в либеральной традиции начальной точкой летоисчисления деятельного русского либерализма, временем рождения русской интеллигенции, как особого общественного слоя. (Д.И.Олейников)

8. Чаадаев выступил решительным западником, и западничество его было криком патриотической боли. (Н.А.Бердяев)

9. Ленинград был важен не только как символ России, но и как промышленный центр, база – на тот момент – единственная - Балтийского флота. Кроме того, город защищала мощная группировка вооруженных сил, от которой зависела эффективность борьбы в московском направлении. (Н.А.Ломагин)

10. Почему мы часто возвращаемся к созданию СССР, к его истории? Ведь минуло уже немало лет с момента его крушения в 1991 году; Советского Союза нет, он стал жертвой государственной измены и предательства партийной верхушки во главе с Горбачевым, а мы то и дело возвращаемся ко времени его создания и пытаемся в который раз осмыслить это событие. Такое внимание к вопросу не случайно, оно связано с тем, что перед нами один из величайших опытов мировой истории. Создание, развитие и существование СССР - это не частное дело нашего национального прошлого. Факт создания СССР есть явление мирового порядка. (И.Я.Фроянов)

№ высказывания: 10.

Мы часто возвращаемся к истории СССР, чтобы не забывать историю и достижения нашей страны. Чтобы помнить историю создания наших мануфактур, изобретений, произведений писателей, произведений искусства и т.д. СССР - это один из величайших опытов мировой истории. Хотя сейчас СССР уже и не существует, но многие люди всё ещё помнят, что происходило в те времена. Это очень важно общаться с будущими поколениями, иначе история СССР и его события забудутся.

1-4	4-9	7-0	10-10
2-5	5-5	12 8-0	528
3-2	6-12	9-5	

Заполняется ПЕЧАТНЫМИ БУКВАМИ чернилами черного или синего цвета по образцам:

А	Б	В	Г	Д	Е	Ж	З	И	К	Л	М	Н	О	П	Р	С	Т	У	Ф	Х	Ц	Ч	Ш	Щ	Ъ	Ы	Ь	Э	Ю	Я	@	8	9	,
A	B	C	D	E	F	G	H	I	J	K	L	M	N	O	P	Q	R	S	T	U	V	W	X	Y	Z	1	2	3	4	5	6	7	0	.

ПРЕДМЕТ

ИСТОРИЯ

КЛАСС

8б

ДАТА

21 . 09 . 2023

И-21

ШИФР УЧАСТНИКА

ФАМИЛИЯ

АЮБРОВА

ИМЯ

ВАЛЕРИЯ

ОТЧЕСТВО

АМИТРИЕВНА

Документ удостоверяющий личность

свидетельство о рождении

паспорт

серия

номер

Гражданство

Российская Федерация

Иное

Дата рождения

03 . 04 . 2008

Домашний телефон участника

+ 7

Мобильный телефон участника

+ 7

Электронный адрес участника

Шифр участника И-21

Задания для обучающихся

Время выполнения - 60 мин.

Максимальный балл – 100

Задание 1. «Да» или «нет»? Если вы согласны с утверждением, напишите «да», если не согласны - «нет». Внесите свои ответы в таблицу. За каждый правильный ответ – 1 балл. Максимальный балл за задание – 10.

Стрельцы – люди, чьей обязанностью было изобретать новые источники государственного дохода (налоги, прибыли).

В 1618 г. Россия заключила «Вечный мир» с Польшей.

Причиной церковного раскола стало проникновение в Россию протестантизма.

В 1653 г. был принят Новоторговый устав, который ликвидировал мелкие таможенные пошлины.

Алексея Михайловича к царствованию готовили заранее: в раннем детстве уже учили читать и писать.

По Соборному уложению особа царя уравнивалась с представителями других сословий.

Соборное уложение завершило процесс закрепощения крестьян.

В XVII веке в состав России вошли земли Сибири, Дальнего Востока, Левобережной Украины и Смоленщины.

Противников никонианской реформы стали называть раскольниками.

Первый этап выступления отрядов Разина историки связывают с «походом за зипунами».

Имена	Прозвища
1. Василий Шуйский	А. «Тушинский вор»
2. Иван IV	Б. Самозванец
3. Лжедмитрий I	В. Тишайший
4. Алексей Михайлович	Г. «Выборный всею землею человек»
5. Лжедмитрий II	Д. «Полуцарь»
	Е. Грозный

Ответ:

	2	2	2	2
1	2	3	4	5
Д	Е	Б	В	А

Задание 4. Объясните смысл выражений. Какие исторические события, явления лежат за этими фразами? За правильное указание значения выражения – 1 балл и по 1 баллу за указание исторического события/явления. Максимальный балл за задание – 10.

«Жен и детей заложить»

0 А) Значение выражения - жертвовать самыми дорогими и ничем не заменить

1 Б) Историческое событие/явление - когда К. Минин возглавлял ополчение из землеродцев, он призвал их ничем не покупать ради освобождения

«Казанская сирота»

1 А) Значение выражения - это тот, кто принимался неостановим

1 Б) Историческое событие/явление - князя Казанского ханства принимали с уважением, ради того чтобы добиться почестей от русского царя. Они именовали себя в письмах к царю «сиротами»

Ответ:

	Принцип	Лишний элемент
5.1.	<i>Он не относится к историческим отношениям связанным с Россией</i>	<i>Сильвестр</i>
5.2.		

Задание 6. Внимательно рассмотрите карту и ответьте на вопросы.

За каждый правильный ответ – 2 балла. Максимальный балл за задание – 8.

- 1) Напишите название периода русской истории, события которого изображены на схеме.
- 2) Назовите русского царя, в правление которого разразился страшный голод, ставший одной из причин событий, изображённых на схеме.
- 3) Напишите прозвище самозванца, которое он получил из-за того, что расположил свой лагерь в подмосковном селе, обозначенном цифрой «2».
- 4) Напишите название города, обозначенного на схеме цифрой «3»

Ответ:

6.1	
6.2	
6.3	
6.4	

Какие предпосылки реформ имеет ввиду автор? Укажите всего две предпосылки [по 2 балла за каждый правильный ответ, максимально - 4 балла].

0 **Ответ:** _____

Укажите две реформы, предпринятые в России при участии Сильвестра и Адашева. [по 2 балла за каждый правильный ответ, максимально - 4 балла].

6 **Ответ:** _____

Задание 8. Установите соответствие между событием отечественной и зарубежной истории, произошедшими в том же году. Запишите в таблицу выбранные цифры под соответствующими буквами. Обратите внимание, в правом столбце таблицы содержится лишний элемент. За каждый правильный ответ – 2 балла. Максимальный балл за задание – 10.

Событие отечественной истории	Событие зарубежной истории
А) Утверждение Соборного уложения	1) Варфоломеевская ночь
Б) Битва при Молодях	2) Галилео Галилей предстал перед судом инквизиции
В) Смерть патриарха Филарета	3) Казнь Карла I Стюарта
Г) Соляной бунт	4) Падение Византийской империи
Д) Окончание междоусобной войны в Московском государстве	5) Изобретение книгопечатания И. Гуттенбергом
	6) Вестфальский мир

Возьмёт венец и бармы Мономаха.

(А. Пушкин)

II. Кто б ни был он, спасенный ли царевич,
Иль некий дух во образе его,
Иль смелый плут, бесстыдный самозванец,
Но только там Димитрий появился.

(А. Пушкин)

III. В листах, народ взывал к царю,
Чтоб он призвал в Москву Собор,
Даб изменил тот уложенья,
Уняв неправды и лишенья,
Что волей приказных господ
Претерпевает весь народ.
Но главным требованьем было,
В народной челобитной той,
Отмены пошлины на соль,
Начальством правящих приказов
Повышенной в четыре раза.

(Н. Ермилов)

IV. Молодец удалой, ты разбойник лихой,
Ты разбойник лихой, ты разгульный буян,
Ты садись на ладьи свои скорые,
Распусти паруса полотняные,
Побеги по морю по синему.

(А. Пушкин)

V. Как по реке по Нерчи
Да по льду голому брели мы пеши —
Страна немирная, отстать не смеем,

Первый царь из династии (1 – фамилия) взошёл на престол в (2) году по решению Земского собора. На момент избрания ему было около 17 лет, и, конечно, его избрание было компромиссом между противоборствующими группами эпохи Смуты. В (2) году делегация отправилась из Москвы в (3 – название) монастырь, где их встретили сам избранный царь и его мать (4 – монашеское имя). После долгих уговоров (5 – имя первого царя из этой династии) отправился вместе с представителями делегации в Москву. По дороге в Москву он остановился в (6 – название города), в котором (7 – фамилия земского старосты) и (8 – фамилия князя) собрали второе ополчение. Затем побывал в прославленном (9 – название) монастыре, основанном в XIV веке и выдержавшем в эпоху Смуты длительную осаду, которую снял знаменитый полководец (10 – фамилия).

Ответ:

1	/	Романовы
2	/	1613, 1613
3	/	(1613) Ипатьевский монастырь
4	/	(Ипатьевский монастырь) Марфа
5	/	Михаил
6	/	Нижний Новгород
7	/	Минин
8	/	Троицкий
9	/	Троице-Сергиевский
10	/	Скопин-Шуйский

Задание 11. Рассмотрите памятник архитектуры и ответьте на вопросы. За каждый правильный ответ – 1 балл. Максимальный балл за задание – 3.

Шифр участника 26-4

Задания для обучающихся

Время выполнения заданий – 45 минут

Максимальное количество баллов – 100

Задание 1. Максимальный балл за задание – 10б.

1.1. Как называется пещера, в которой археолог Сатуола с дочерью обнаружили древнейшие рисунки:

- А) Ляско
- Б) Альтамира
- В) Капова пещера
- Г) Комбарель

1.2. Какое занятие возникло из собирательства:

- А) Охота
- Б) Скотоводство
- В) Земледелие
- Г) Рыболовство

1.3. Из какого металла люди научились раньше всего делать орудия труда: А) Железо

- Б) Бронза
- В) Алюминий
- Г) Медь

1.4. Какая река, протекающая по территории Индии, считается рекой жизни:

- А) Ганг
- Б) Нил
- В) Хуанхэ
- Г) Тигр

1.5. Какая страна является родиной бумаги, шелка и компаса: А) Египет

- Б) Индия
- В) Китай
- Г) Греция


Соответствующие буквы ответов внеси в таблицу.



1.1	1.2	1.3	1.4	1.5
Б	В	В	А	В

2 2 - - -

Задание 5. Максимальный балл за задание – 10 б.
Разгадайте ребусы, и запишите ответы

10 б

А)  + ОН

Б)  М  В = Д

Ответ: фаршон 5

Ответ: М пирамида 5

3 б

Задание 6. Максимальный балл за задание - 6б.

На контурной карте Вавилонское царство:

1. Надпишите название рек образующие долину Междуречье
2. Подпишите столицу Вавилонского царства.



Задание 7. Максимальный балл за задание – 4б.

Выберите из списка имена правителей Вавилона: А)

- Кир Великий
- Б) Дарий
- В) Хаммурапи
- Г) Тутмос
- Д) Навуходоносор
- Е) Цинь Шихуанди

Какие положения были закреплены в законах Хаммурапи: А)

- равноправие
- Б) «око за око, зуб за зуб»

Задание 9. Максимальный балл за задание – 20б.

Решите кроссворд

По горизонтали: 1. Сплав меди и олова. 4. Письменность Древнего Двуречья.

6. Письменность древних египтян. 9. Материал для письма в Древнем Египте.

По вертикали: 2. Глава племени. 3. Наука, изучающая вещественные памятники истории. 5. Сильный и ловкий раб, которого обучали сражаться на потеху публике в Риме. 7. Человек, который занимается изготовлением сосудов, орудий труда, тканей и т.д. 8. Палка с сучком для занятия земледелием. 10. Царь Египта.

20

10

29

72

2

2

3

1

2

2

5

4

82

6

2

2

10

Задание 10. Максимальный балл за задание – 10б.

В 2022 в Омске был установлен памятник, изображенный на фотографии.

Рассмотрите фотографию и ответьте на вопросы:

Какому историческому деятелю установлен памятник? Петру I 5

Какое отношение к городу имеет данный исторический деятель? Петр I

установил в Омске 27 мая 2022 году на площади 5

Омской крепости. Скульптуру российского императора

создали под благотворительные деньги.